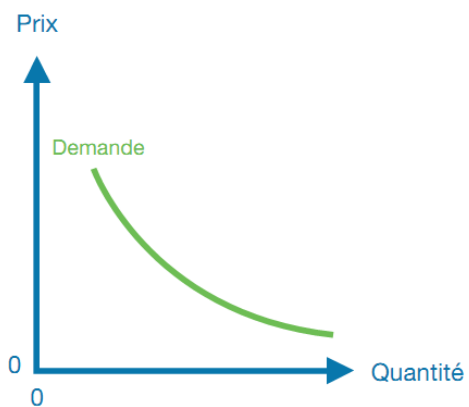
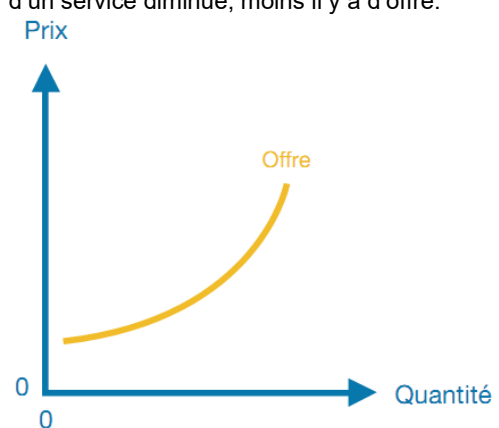
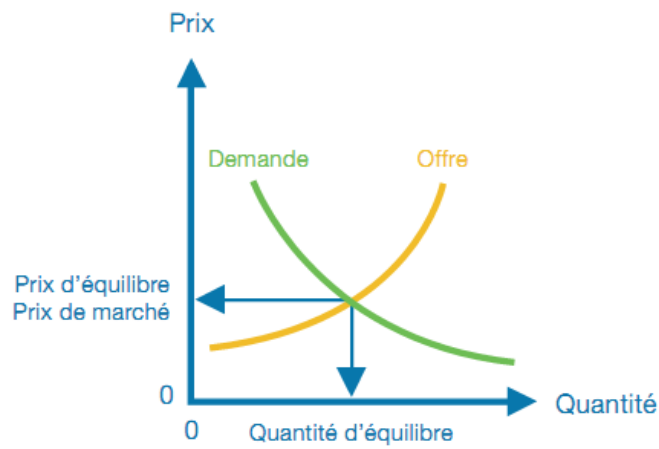
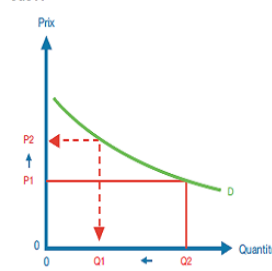
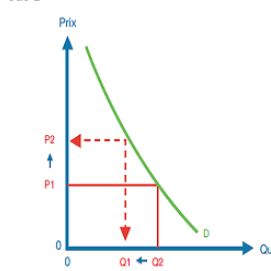


Économie politique Connaissances de base	Question 1	Économie politique	Réponse 1
	Qu'est-ce qu'une « économie » ?	On entend par « économie » l'ensemble des agents économiques (ménages, entreprises, État) actifs dans un espace économique (État ou groupe d'États) et mutuellement dépendants.	
© Schatz Verlag			
Économie politique Connaissances de base	Question 2	Économie politique	Réponse 2
Dessinez le circuit économique simplifié.	<p>Le diagramme illustre le circuit économique simplifié entre deux secteurs : les Entreprises (à gauche) et les Ménages (à droite).  - En haut, une rangée de quatre boîtes orange représente les flux de rémunération : Salaires, Intérêts, Droits de licence, et Loyers. Une flèche orange les relie de gauche à droite, avec l'étiquette « Rémunération des facteurs de production » en dessous.  - En dessous de ces boîtes, une rangée de quatre boîtes vertes représente les facteurs de production : Travail, Capital, Savoir, et Sol. Une flèche verte les relie de gauche à droite, avec l'étiquette « Facteurs de production » en dessous.  - Les boîtes orange et vertes sont reliées par des flèches verticales : une flèche orange descend de « Salaires » vers « Travail », et une flèche verte descend de « Sol » vers « Loyers ».  - En bas, deux boîtes bleues représentent les acteurs : « Entreprises » à gauche et « Ménages » à droite.  - Une flèche verte part des Entreprises vers les Ménages, étiquetée « Biens et services ».  - Une flèche orange part des Ménages vers les Entreprises, étiquetée « Rémunération des biens et des services ».</p>		
© Schatz Verlag			
Économie politique Connaissances de base	Question 3	Économie politique	Réponse 3
Comment mesure-t-on le produit intérieur brut (PIB) et le revenu national (RN) ?	<p>Ce diagramme est une version simplifiée du précédent, se concentrant sur les flux entre les Entreprises (boîte bleue à gauche) et les Ménages (boîte bleue à droite).  - Une flèche verte part des Entreprises vers les Ménages, étiquetée « Biens et services ». Cette flèche est associée à un cercle vert étiqueté « PIB » (Produit Intérieur Brut).  - Une flèche orange part des Ménages vers les Entreprises, étiquetée « Rémunération des biens et des services ».  - Une flèche orange part des Entreprises vers les Ménages, étiquetée « Rémunération des facteurs de production ». Cette flèche est associée à un cercle orange étiqueté « RN » (Revenu National).  - Les flèches orange et verte sont encadrées par des lignes courbes orange et verte respectivement.</p>		
© Schatz Verlag			

Économie politique Connaissances de base	Question 4	Économie politique	Réponse 4
Que signifie l'abréviation PIB ?		Le <b>produit intérieur brut</b> (PIB) est un indicateur de <b>tous les biens et services nouvellement créés</b> , à leur prix de marché, <b>produits</b> durant une période définie <b>par des agents suisses et étrangers résidant dans un pays</b> .	
© Schatz Verlag			
Économie politique Connaissances de base	Question 5	Économie politique	Réponse 5
Expliquez la différence entre le PIB et le Produit National Brut (PNB).		<p>Le PIB désigne la quantité cumulée de biens et services produite en Suisse, par exemple, que ce soit par des travailleurs nationaux ou étrangers (sont donc inclus les frontaliers, qui résident à l'étranger et travaillent ici). On parle, à ce propos, de « <b>principe de territorialité</b> ».</p> <p>Par contraste, c'est le « <b>principe national</b> » qui s'applique au Produit National Brut (ou Revenu National Brut), lequel inclut la production à l'étranger des travailleurs nationaux, tandis qu'on retranche la production en Suisse des personnes domiciliées à l'étranger (les travailleurs frontaliers, par exemple).</p>	
© Schatz Verlag			
Économie politique Connaissances de base	Question 6	Économie politique	Réponse 6
Que signifie l'abréviation RN ?		Le <b>revenu national</b> (RN) est la <b>somme de tous les revenus</b> du travail et de la fortune (salaires, intérêts, loyers, bénéfices, etc.), de source nationale ou étrangère, obtenus par les travailleurs nationaux en l'espace d'une année.	
© Schatz Verlag			

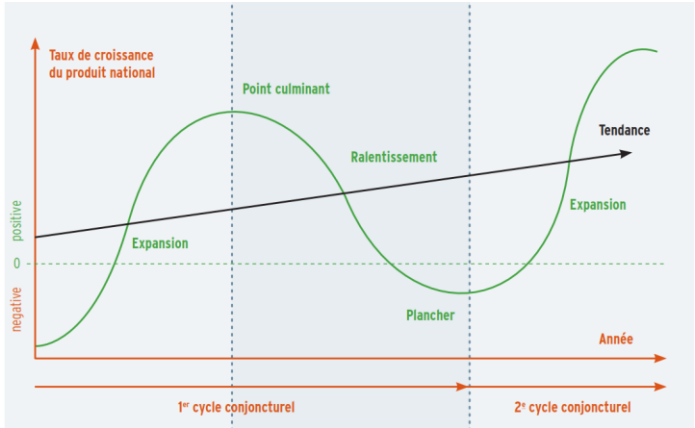
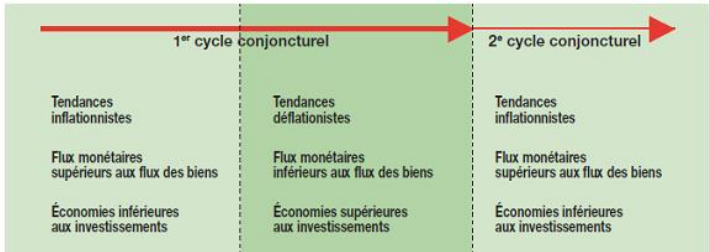
Économie politique Connaissances de base	Question 7	Économie politique	Réponse 7
Que signifie un indice de Gini de plus de 40 ?		Un indice de Gini de 0 signifie l'égalité parfaite (tout le monde a le même revenu) et 100 l'inégalité parfaite (une personne a tout le revenu, les autres n'ont rien).	D'après les estimations des Nations Unies, les <b>tensions sociales</b> commencent à apparaître lorsque l'indice de Gini est supérieur à 40.
© Schatz Verlag			
Économie politique Connaissances de base	Question 8	Économie politique	Réponse 8
Qu'est-ce qu'un marché ?		Le marché est le lieu (réel ou virtuel) de <b>rencontre entre l'offre et la demande</b> d'un bien ou d'un service.	
© Schatz Verlag			
Économie politique Connaissances de base	Question 9	Économie politique	Réponse 9
Qu'est-ce qu'un prix ?		Le prix est <b>le montant que l'on doit débours</b> er lorsqu'on achète un bien ou un service.	
© Schatz Verlag			

Économie politique Connaissances de base	Question 10	Économie politique	Réponse 10
	Décrivez la relation entre le prix et la quantité demandée.		<p>Normalement, plus le prix d'un bien ou d'un service est élevé, plus la demande de ce bien ou de ce service diminue.</p>  <p>Le graphique illustre la relation inverse entre le prix et la quantité demandée. L'axe vertical est étiqueté 'Prix' et l'axe horizontal 'Quantité'. Les deux axes ont un point d'origine marqué '0'. Une courbe verte, convexe vers l'origine, est étiquetée 'Demande'.</p>
© Schatz Verlag			
Économie politique Connaissances de base	Question 11	Économie politique	Réponse 11
	Décrivez la relation entre le prix et la quantité offerte.		<p>Normalement, plus le prix d'un bien ou d'un service est élevé, plus l'offre de ce bien ou service est élevée, plus le prix d'un bien ou d'un service diminue, moins il y a d'offre.</p>  <p>Le graphique illustre la relation directe entre le prix et la quantité offerte. L'axe vertical est étiqueté 'Prix' et l'axe horizontal 'Quantité'. Les deux axes ont un point d'origine marqué '0'. Une courbe orange, convexe vers l'origine, est étiquetée 'Offre'.</p>
© Schatz Verlag			
Économie politique Connaissances de base	Question 12	Économie politique	Réponse 12
	Dessinez un graphique montrant le prix d'équilibre.		 <p>Le graphique illustre le point d'équilibre du marché où la demande et l'offre se rencontrent. L'axe vertical est étiqueté 'Prix' et l'axe horizontal 'Quantité'. Les deux axes ont un point d'origine marqué '0'. Une courbe verte, convexe vers l'origine, est étiquetée 'Demande'. Une courbe orange, convexe vers l'origine, est étiquetée 'Offre'. Le point d'intersection des deux courbes est marqué. Des flèches bleues indiquent que ce point correspond au 'Prix d'équilibre' et au 'Prix de marché' sur l'axe vertical, et à la 'Quantité d'équilibre' sur l'axe horizontal.</p>
© Schatz Verlag			

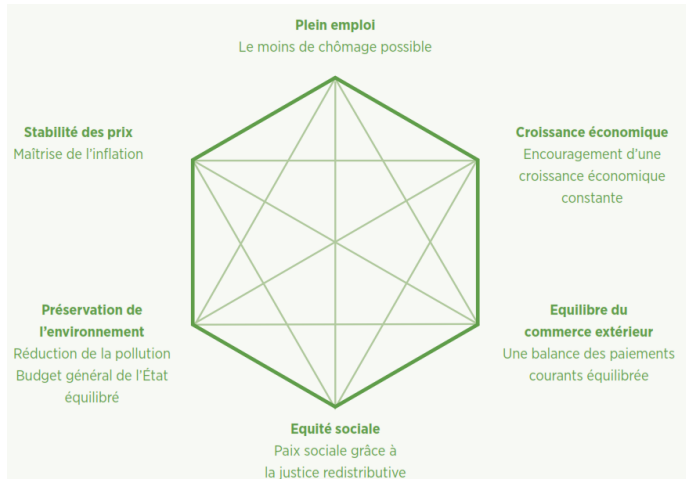
Économie politique Connaissances de base	Question 13	Économie politique	Réponse 13
Que signifie « élasticité des prix de la demande » ?		L'élasticité des prix de la demande indique dans quelle mesure une variation de prix se répercute sur la demande. <div><div><div>élastique</div><div>Cas A</div><div>De petits changements de prix influencent fortement les quantités</div></div><div><div>inélastique</div><div>Cas B</div><div>Les changements de prix n'ont pas/peu d'impact sur les quantités</div></div></div>	
© Schatz Verlag			
Économie politique Connaissances de base	Question 14	Économie politique	Réponse 14
Que signifie « inflation » ?		L'inflation (du latin inflare qui signifie « enfler ») désigne une augmentation durable du niveau des prix. <b>Le pouvoir d'achat diminue.</b>	
Quel impact a-t-elle ?		Le flux des capitaux est supérieur au flux des biens. Impact : Elle se traduit par une dépréciation de la monnaie.	
© Schatz Verlag			
Économie politique Connaissances de base	Question 15	Économie politique	Réponse 15
Que signifie « déflation » ?		Les prix baissent, la monnaie s'apprécie et <b>le pouvoir d'achat augmente.</b>	
Quel impact a-t-elle ?		Le flux des capitaux est inférieur au flux des biens. Impact : Même si l'un ou l'autre profite de la situation pour acquérir des biens bon marché, il y a le risque que les gens économisent l'argent et ne font pas d'investissements, car ils attendent dans l'espoir que les prix continueront à baisser. Ceci peut causer une stagnation et ainsi une nouvelle déflation et causer des faillites, du chômage, etc.	
© Schatz Verlag			

Économie politique Connaissances de base	Question 16	Économie politique	Réponse 16
<p>Qui bénéficie des avantages d'une inflation et qui subit les désavantages ?</p> <p>© Schatz Verlag</p>		<p>Ceux qui trouvent des <b>avantages à l'inflation</b> sont, par ex. :</p> <ul style="list-style-type: none"> <li>• Les débiteurs</li> <li>• Les propriétaires de biens réels (comme l'immobilier et l'or, par exemple)</li> <li>• L'État : c'est le plus grand bénéficiaire de l'inflation, car il est généralement endetté.</li> </ul> <p>Parmi <b>ceux qui subissent les inconvénients de l'inflation</b>, on trouve notamment :</p> <ul style="list-style-type: none"> <li>• Les créanciers et épargnants</li> <li>• Les rentiers</li> </ul>	
Économie politique Connaissances de base	Question 17	Économie politique	Réponse 17
<p>Avec quel instrument le renchérissement des biens de consommation les plus importants est-il mesuré ?</p> <p>A quoi sert cet instrument ?</p> <p>Quelle est son importance ?</p> <p>© Schatz Verlag</p>		<p>avec l'<b>indice national des prix à la consommation (IPC)</b></p> <p>L'IPC mesure l'évolution des prix des marchandises et des services représentatifs de la consommation des ménages privés. Il indique de combien les consommateurs doivent augmenter ou diminuer leurs dépenses pour maintenir le même volume de consommation malgré les variations de prix.</p> <p>Le taux de renchérissement déterminé au moyen de l'IPC sert généralement de <b>base pour le calcul des primes de renchérissement pour les différents revenus</b>.</p>	
Économie politique Connaissances de base	Question 18	Économie politique	Réponse 18
<p>Expliquez le rôle de l'État dans le circuit économique.</p> <p>© Schatz Verlag</p>		<p>L'État prélève des impôts auprès des entreprises et des ménages privés.</p> <p>En sens inverse, il accorde des aides financières (<b>subventions</b>) et passe des <b>commandes publiques</b> aux entreprises, verse des salaires à ses employés et des <b>prestations sociales</b> (rentes, prestations complémentaires, aide sociale, etc.) à ses citoyens.</p> <p>En outre, <b>il approvisionne en monnaie le circuit économique</b> (par l'intermédiaire de la Banque nationale).</p>	

Économie politique Connaissances de base	Question 19	Économie politique	Réponse 19
<p>L'État a confié à la Banque nationale suisse la tâche de réguler la masse monétaire.</p> <p>Pourquoi cette compétence n'est-elle pas du ressort de l'État ?</p> <p>Quelle est la mission centrale de la BNS selon la Constitution fédérale?</p> <p>© Schatz Verlag</p>		<p>Le contrôle a été délégué à la BNS, <b>instance indépendante</b>, pour éviter que les politiciens représentant des groupes d'intérêt, et donc aussi le gouvernement, ne dérèglent la masse monétaire au détriment de l'intérêt global de l'Économie :</p> <p>en cas de fort endettement, l'État pourrait par exemple être tenté de continuer à dépenser et de financer ces dépenses en faisant « marcher la planche à billets », donc en augmentant la masse monétaire de façon inflationniste.</p> <p>Selon l'art. 99 de la Constitution fédérale, la Banque nationale suisse doit mener une politique monétaire « <b>servant les intérêts généraux de tous</b> ».</p>	
Économie politique Connaissances de base	Question 20	Économie politique	Réponse 20
<p>Quel est le rôle des banques dans le circuit économique ?</p> <p>© Schatz Verlag</p>		<p><b>Fonction de distribution</b> Intermédiaires entre épargnants (offre) et emprunteurs (demande), et ainsi répartition optimale du capital monétaire.</p> <p><b>Fonction de concentration</b> Compensation entre les nombreux petits dépôts et les gros crédits.</p> <p><b>Fonction de confiance</b> Grâce à la répartition des risques et un octroi de crédits professionnel, l'argent est placé de manière plus sûre qu'il ne le serait si un seul épargnant ne le faisait.</p>	
Économie politique Connaissances de base	Question 21	Économie politique	Réponse 21
<p>Que signifie « conjoncture » ?</p> <p>Comment s'effectue une croissance économique ?</p> <p>© Schatz Verlag</p>		<p>On appelle <b>conjoncture</b> l'activité économique d'une économie nationale par rapport à la tendance au long terme.</p> <p>Elle est <b>mesurée sur la base du PIB réel</b> (= après correction des variations des prix) par rapport à la tendance réelle du PIB à long terme. Elle se reflète dans le degré d'utilisation du capital physique et de la main-d'œuvre (taux de chômage).</p> <p>Par <b>croissance économique</b> on entend la croissance du produit intérieur brut (PIB). Cette croissance est rarement régulière, linéaire, mais plutôt ondulatoire.</p>	

Économie politique Connaissances de base	Question 22	Économie politique	Réponse 22																
Quelles sont les quatre phases d'un cycle conjoncturel ?																			
© Schatz Verlag																			
Économie politique Connaissances de base	Question 23	Économie politique	Réponse 23																
Quelles sont les caractéristiques des phases d'expansion et de ralentissement d'un cycle conjoncturel en ce qui concerne la stabilité de la valeur de l'argent, le flux de l'argent et des biens et les investissements ?			 <table border="1"> <thead> <tr> <th colspan="2">1<sup>er</sup> cycle conjoncturel</th> <th colspan="2">2<sup>e</sup> cycle conjoncturel</th> </tr> </thead> <tbody> <tr> <td>Tendances inflationnistes</td> <td>Tendances déflationnistes</td> <td>Tendances inflationnistes</td> <td>Tendances déflationnistes</td> </tr> <tr> <td>Flux monétaires supérieurs aux flux des biens</td> <td>Flux monétaires inférieurs aux flux des biens</td> <td>Flux monétaires supérieurs aux flux des biens</td> <td>Flux monétaires inférieurs aux flux des biens</td> </tr> <tr> <td>Économies inférieures aux investissements</td> <td>Économies supérieures aux investissements</td> <td>Économies inférieures aux investissements</td> <td>Économies supérieures aux investissements</td> </tr> </tbody> </table>	1 <sup>er</sup> cycle conjoncturel		2 <sup>e</sup> cycle conjoncturel		Tendances inflationnistes	Tendances déflationnistes	Tendances inflationnistes	Tendances déflationnistes	Flux monétaires supérieurs aux flux des biens	Flux monétaires inférieurs aux flux des biens	Flux monétaires supérieurs aux flux des biens	Flux monétaires inférieurs aux flux des biens	Économies inférieures aux investissements	Économies supérieures aux investissements	Économies inférieures aux investissements	Économies supérieures aux investissements
1 <sup>er</sup> cycle conjoncturel		2 <sup>e</sup> cycle conjoncturel																	
Tendances inflationnistes	Tendances déflationnistes	Tendances inflationnistes	Tendances déflationnistes																
Flux monétaires supérieurs aux flux des biens	Flux monétaires inférieurs aux flux des biens	Flux monétaires supérieurs aux flux des biens	Flux monétaires inférieurs aux flux des biens																
Économies inférieures aux investissements	Économies supérieures aux investissements	Économies inférieures aux investissements	Économies supérieures aux investissements																
© Schatz Verlag																			
Économie politique Connaissances de base	Question 24	Économie politique	Réponse 24																
<p>Qu'est-ce qu'une politique conjoncturelle ?</p> <p>Quel objectif a-t-elle ?</p>			<p>On désigne par politique conjoncturelle <b>les mesures prises par l'État ou la Banque nationale</b> visant à lisser la conjoncture et à promouvoir <b>une croissance positive</b> et aussi <b>régulière</b> que possible.</p>																
© Schatz Verlag																			



Économie politique Connaissances de base	Question 25	Économie politique	Réponse 25
<p>Quels sont les six facteurs importants qu'une politique conjoncturelle équilibrée doit respecter ?</p> <p>© Schatz Verlag</p>		 <p>Le diagramme est un hexagone vert avec des lignes internes reliant les sommets et les points médians des côtés, créant un réseau de triangles. Six facteurs sont répartis autour de ce diagramme :</p> <ul style="list-style-type: none"><li><b>Plein emploi</b> Le moins de chômage possible</li><li><b>Croissance économique</b> Encouragement d'une croissance économique constante</li><li><b>Equilibre du commerce extérieur</b> Une balance des paiements courants équilibrée</li><li><b>Equité sociale</b> Paix sociale grâce à la justice redistributive</li><li><b>Préservation de l'environnement</b> Réduction de la pollution Budget général de l'État équilibré</li><li><b>Stabilité des prix</b> Maîtrise de l'inflation</li></ul>	
Économie politique Connaissances de base	Question 26	Économie politique	Réponse 26
<p>Quels sont trois objectifs possibles de l'activité économique ?</p> <p>© Schatz Verlag</p>		<p><b>Prosperité matérielle</b></p> <p><b>Bien-être</b></p> <p><b>Durabilité</b></p>	
Économie politique Connaissances de base	Question 27	Économie politique	Réponse 27
<p>Expliquez à l'aide d'exemples ce qu'est la prospérité matérielle.</p> <p>© Schatz Verlag</p>		<p>L'activité économique se fixe comme but d'accroître la prospérité matérielle, c'est-à-dire de <b>produire le plus de biens et services possible</b>.</p> <p>Cette prospérité est souvent appréciée au moyen du <b>PIB par tête</b>.</p> <p>On utilise aussi volontiers l'expression « <b>qualité de vie</b> ».</p>	

Économie politique Connaissances de base	Question 28	Économie politique	Réponse 28
Que signifie « le bien-être » ?		<p>C'est tout ce qui contribue au bien-être. Le bien-être est <b>un état qui touche à la santé, au plaisir, à la réalisation de soi, à l'harmonie avec soi et les autres.</b></p> <p>prosperité matérielle santé justice (éthique) environnement intact (écologie) liberté (démocratie)</p> <hr/> <p>= bien-être</p>	
© Schatz Verlag			
Économie politique Connaissances de base	Question 29	Économie politique	Réponse 29
Comment l'État intervient-il dans l'Économie pour garantir la qualité de vie ? Donnez trois exemples.		<p><b>Dans le domaine de la santé</b>, l'État interdit la publicité télévisée de certains produits nocifs (alcool, tabac), fait apposer des mises en garde (sur les paquets de cigarettes), interdit les drogues, etc.</p> <p><b>Dans le domaine de la consommation</b>, il protège le consommateur par des prescriptions strictes (petits crédits, protection des locataires)</p> <p>Il grève les ménages et les entreprises de taxes pour les dommages qu'ils ont causés (taxe CO2, taxe poubelle, etc.).</p> <p>Il assure lui-même la production de biens et de services que le marché libre n'offre pas ou bien à un prix plus élevé (formation, défense nationale).</p>	
© Schatz Verlag			
Économie politique Connaissances de base	Question 30	Économie politique	Réponse 30
Que signifie « durabilité » ? Donnez-en deux exemples.		<p>Le développement durable est l'objectif de <b>développement compatible avec les besoins des générations futures.</b></p> <p>Du point de vue environnemental, il faut veiller à ce que les générations futures aient les mêmes conditions de vie.</p> <p>Du point de vue équité sociale, il faut éviter que les déficits des assurances sociales (AVS/AI) ne soient répercutés sur les générations futures.</p>	
© Schatz Verlag			

Économie politique Connaissances de base	Question 31	Économie politique	Réponse 31
<p>Le circuit monétaire et le circuit des biens n'existent pas seulement en Suisse, mais aussi entre la Suisse et l'étranger : nos entreprises exportent et importent des biens et des services.</p> <p>Comment s'appelle l'instrument qui mesure cet échange ?</p> <p>© Schatz Verlag</p>		<p>La balance des paiements</p>	
Économie politique Connaissances de base	Question 32	Économie politique	Réponse 32
<p>La balance des paiements est subdivisée en deux. Comment s'appellent ces deux balances et que mesurent-elles ?</p> <p>© Schatz Verlag</p>		<p><b>La balance des transactions courantes</b> Elle recense les importations/exportations de marchandises, de services et de capitaux.</p> <p><b>La balance des mouvements de capitaux</b> Elle recense tous les transferts de capital (créances et engagements) entre les acteurs économiques (y compris les banques) indigènes et étrangers. Elle équilibre les soldes de la balance des transactions courantes.</p>	
Économie politique Connaissances de base	Question 33	Économie politique	Réponse 33
<p>Quels sont les différents postes de la balance des transactions courantes ? De quoi se composent-ils ?</p> <p>© Schatz Verlag</p>		<p><b>La balance commerciale</b> Elle recense les importations et les exportations de marchandises. La Suisse dégage généralement un excédent commercial.</p> <p><b>La balance des services</b> Elle recense les importations et les exportations de services, notamment tourisme, banques, assurances. La Suisse dégage un excédent.</p> <p><b>La balance des revenus du travail et du capital</b> Elle recense les paiements effectués aux et par les frontaliers (solde déficitaire), les paiements aux investisseurs étrangers et les revenus réalisés par les Suisses à l'étranger (solde excédentaire). L'un dans l'autre, la Suisse dégage un excédent.</p> <p><b>La balance des transferts courants</b> Y sont notamment recensées l'aide au développement et les rentes versés à l'étranger. Ce poste est déficitaire.</p>	

Économie politique Connaissances de base	Question 34	Économie politique	Réponse 34
	<p>Qu'est-ce qu'une « devise » et à quoi sert-elle ?</p> <p>© Schatz Verlag</p>		<p>Une devise est <b>une monnaie étrangère</b> sous forme d'avoirs bancaires.</p> <p>Elle est utilisée pour régler des factures qui viennent de l'étranger.</p>
Économie politique Connaissances de base	Question 35	Économie politique	Réponse 35
	<p>Pour le commerce des devises, il y a un marché où est négocié le cours des changes (Forex = Foreign Exchange Market).</p> <p>D'où viennent les variations de cours ?</p> <p>Quelles sont les raisons de ces variations ?</p> <p>© Schatz Verlag</p>		<p><b>Attentes des acteurs du marché</b> Les investisseurs s'attendent par exemple à ce qu'une devise s'apprécie et l'achètent parce qu'ils veulent profiter de l'augmentation de valeur (augmentation de la demande).</p> <p><b>Politique des taux d'intérêt de la banque centrale</b> Des taux plus élevés renforcent l'attractivité d'une monnaie, et son cours augmente. En cas de baisse des taux, c'est le contraire.</p> <p><b>Facteurs psychologiques</b> Lorsque par exemple la situation politique au niveau mondial devient précaire, les investisseurs placent leur argent dans des pays stables.</p>
Économie politique Connaissances de base	Question 36	Économie politique	Réponse 36
	<p>Que signifie « mondialisation » (ou « globalisation » – les deux termes étant aujourd'hui utilisés de manière indifférenciée) ?</p> <p>© Schatz Verlag</p>		<p>Ce terme signifie <b>l'interconnexion / donc aussi l'interdépendance globale</b> :</p> <ul style="list-style-type: none"> <li>des individus</li> <li>des institutions et des États et par là même</li> <li>des modifications des relations économiques, politiques sociales et culturelles</li> </ul>

Économie politique Connaissances de base	Question 37	Économie politique	Réponse 37
Nommez au moins deux avantages économiques de la globalisation.		<p><b>stimule la croissance</b> dans tous les pays pratiquant le commerce au niveau mondial, la prospérité augmente</p> <p><b>le partage du travail</b> au niveau international <b>fait augmenter le revenu/la demande</b></p> <p><b>accélération du développement technique</b> les produits de meilleure qualité ne s'imposent pas seulement au niveau local, mais aussi global, ce qui représente un avantage pour les consommateurs</p> <p><b>la pauvreté et la faim reculent</b> grâce au commerce mondial</p> <p><b>le nombre des guerres / des conflits diminue</b> dans un monde globalisé, ils sont devenus trop chers pour les belligérants</p>	
© Schatz Verlag			
Économie politique Connaissances de base	Question 38	Économie politique	Réponse 38
Nommez quelques désavantages de la globalisation.		<p><b>trop forte concentration sur l'Economie</b> la protection de l'environnement, la démocratie, les droits de l'homme, les droits des travailleurs notamment sont négligés</p> <p>le simple citoyen n'a <b>guère d'influence sur le développement</b></p> <p><b>répartition inégale</b> quelques élites sont bien loties, tandis que les travailleurs mal qualifiés souffrent de la concurrence croissante des pays à bas salaires</p> <p><b>uniformisation des cultures</b></p> <p>les <b>épidémies</b> peuvent se répandre beaucoup plus rapidement au niveau mondial</p>	
© Schatz Verlag			
Économie politique Connaissances de base	Question 39	Économie politique	Réponse 39
Nommez trois institutions internationales importantes qui essaient de soutenir la globalisation et/ou de la réguler.		<p>la Banque mondiale</p> <p>le FMI (Fonds monétaire international)</p> <p>l'OMC (Organisation mondiale du commerce)</p>	
© Schatz Verlag			

Économie politique Connaissances de base	Question 40	Économie politique	Réponse 40
Quelles sont les objectifs de la Banque mondiale ?		<p>Objectif principal : <b>lutte contre la pauvreté dans le monde</b></p> <ul style="list-style-type: none"> <li>• en apportant des aides financières et techniques et des conseils aux États en difficulté</li> <li>• en accordant des prêts de longue durée et des crédits sans intérêt</li> </ul>	
© Schatz Verlag			
Économie politique Connaissances de base	Question 41	Économie politique	Réponse 41
Quelles sont les missions du FMI ?		<p>promouvoir la <b>coopération monétaire internationale</b></p> <p>garantir la stabilité financière</p> <p>faciliter les échanges internationaux</p>	
© Schatz Verlag			
Économie politique Connaissances de base	Question 42	Économie politique	Réponse 42
Quelles sont les missions de l'OMC ?		<p>Objectif principal : <b>élévation de la prospérité au niveau mondial</b></p> <p>Réglementation des relations commerciales et économiques</p> <p>Suppression des obstacles au commerce, <b>libéralisation du commerce international</b></p>	
© Schatz Verlag			

Économie politique Connaissances de base	Question 43	Économie politique	Réponse 43
Quelles sont les trois règles fondamentales que les membres de l'OMC s'obligent à respecter dans leurs relations commerciales ?		<p>la <b>clause de la nation la plus favorisée (principe de non discrimination)</b> les avantages commerciaux accordés par un membre de l'OMC à un autre doivent être accordés à tous les autres membres</p> <p>la <b>clause du traitement national</b> les produits importés ne doivent pas être désavantagés par rapport aux produits nationaux ; en ce qui concerne les services, cette règle ne s'applique que si l'État a ouvert son marché à tel ou tel secteur</p> <p>la <b>transparence</b> les réglementations et les restrictions au commerce extérieur doivent être rendues publiques</p>	
© Schatz Verlag			
Économie politique Connaissances de base	Question 44	Économie politique	Réponse 44
Nommez au moins trois avantages de la Suisse dans la concurrence internationale.		<p>stabilité politique</p> <p>main-d'œuvre qualifiée</p> <p>bon état d'esprit au travail</p> <p>infrastructure moderne</p> <p>position géographique centrale</p> <p>système fiscal compétitif</p> <p>très bonne qualité de vie</p>	
© Schatz Verlag			
Économie politique Connaissances de base	Question 45	Économie politique	Réponse 45
© Schatz Verlag			